

隈府小 5 年生

算数②

令和 2 年 5 月 1 8 日 (月)

1 時間目 (9 : 0 0 ~ 9 : 4 5)

算数②整数と小数

- 学習の準備をしよう。
 - 算数の教科書
 - 算数のノート
 - 筆記用具

算数②整数と小数

(1) めあてを確かめて、ノートに
写そう。【教科書】 13ページ

めあて

$\frac{1}{10}$, $\frac{1}{100}$, $\frac{1}{1000}$ にしたときの小数点の移り
方を調べよう

算数②整数と小数

(2) 教科書の問題 7 をノートに写そう
【教科書】 13ページ

7

列車の模型を作ろうと思います。

列車の全長108.9mを $\frac{1}{10}$ 、 $\frac{1}{100}$ 、 $\frac{1}{1000}$ した時の
長さは、それぞれ何mになりますか。

算数②整数と小数

(3) 108.9 を $\frac{1}{10}$, $\frac{1}{100}$, $\frac{1}{1000}$ にした数を

計算し、式と答えをノートに書こう。

$\frac{1}{10}$ したとき . . . _____

$\frac{1}{100}$ したとき . . . _____

$\frac{1}{1000}$ したとき . . . _____

算数②整数と小数

(3) $\frac{1}{10}$ したとき
 $108.9 \div 10 = 10.89$

$\frac{1}{100}$ したとき
 $108.9 \div 100 = 1.089$

$\frac{1}{1000}$ したとき
 $108.9 \div 1000 = 0.1089$

算数②整数と小数

- (4) 求めた数字をたてにそろえて書き、小数点の移動の仕方を調べよう。
ノートに気づきを書こう。

	1	0	8	9
	1	0	8	9
	1	0	8	9
0	1	0	8	9

算数②整数と小数



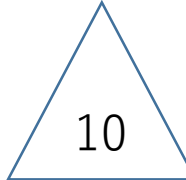
(5) 教科書のまとめをノートに写そう。

【教科書】 13ページ

〈まとめ〉

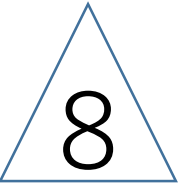

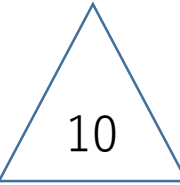
整数や小数を、 $\frac{1}{10}$ 、 $\frac{1}{100}$ 、 $\frac{1}{1000}$ にすると、
小数点は左にそれぞれ1けた、2けた、3けた
た移ります。

算数②整数と小数

(6) 問題    をノートに解こう。

【教科書】 13ページ

算数②整数と小数

(6) 問題    答え合わせをしよう。
やり直しまで！



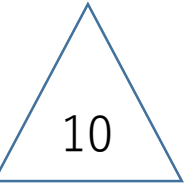


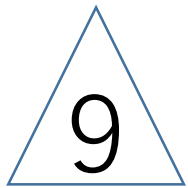
① $\frac{1}{10}$) 25.64
 $\frac{1}{100}$) 2.564
 $\frac{1}{1000}$) 0.2564

② $\frac{1}{10}$) 4.01
 $\frac{1}{100}$) 0.401
 $\frac{1}{1000}$) 0.0401

③ $\frac{1}{10}$) 7
 $\frac{1}{100}$) 0.7
 $\frac{1}{1000}$) 0.07

算数②整数と小数

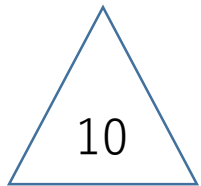
(6) 問題    答え合わせをしよう。
やり直しまで!



① $\frac{1}{10}$

② $\frac{1}{1000}$

③ $\frac{1}{100}$



① 0.68

② 0.328

③ 0.0415

算数②整数と小数

- 今回の復習を動画で確認できます

Google → 「わくわく算数」で検索 → 「5年生動画を見る」

→ 見る方法を選択する → ①整数と小数P, 13

【次の算数は…】

整数と小数についてたしかめよう！