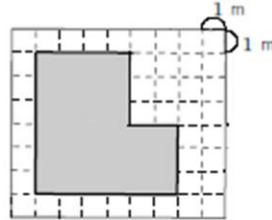


めあて

※めあてはお家の人といっしょに考えて書きましょう。

⑥ 次の問題に答えましょう。

(1) あおいさんとしんじさんは、右の図のような形の面積を求める式を考えました。



2人の考えた式にあてはまる図を、下のアからエまでの中から1つ選び、下の口にそれぞれ記号を書きましょう。

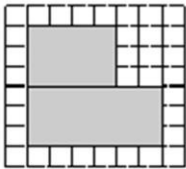


わたしが考えた式は、
 $6 \times 4 + 3 \times 2$ です。

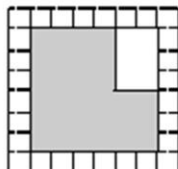


ぼくが考えた式は、
 $6 \times (4 + 6) \div 2$ です。

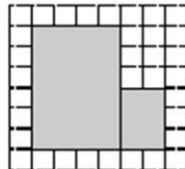
ア



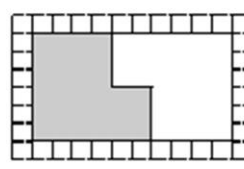
イ



ウ

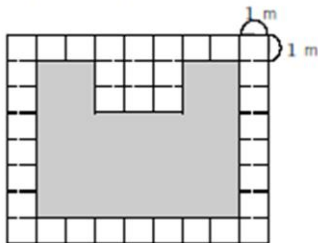


エ



(2) 次に、下の図のような形の面積を求めます。あなたの考え方を下の図にかき入れて、式や言葉を使って面積を求めましょう。

【考え方】



答え _____ m^2

⑬

感想

※べんぎょうの感想を書きましょう。